

RSMSSB Jail Prahari Exam 2025

(Model Paper - 3rd)

Section : तार्किक और मानसिक क्षमता

Q.1 सीता पूर्व दिशा में 1 किमी. चलती है, फिर दाएं मुड़कर 1 किमी. चलती है, उसके बाद बाएं मुड़ती है और 2 किमी चलती है तथा अंत में बाएं मुड़कर 5 किमी चलती है। सीता अपने मूल प्रस्थान से (न्यूनतम रास्ते के आधार पर) कुल कितनी दूर पर है?

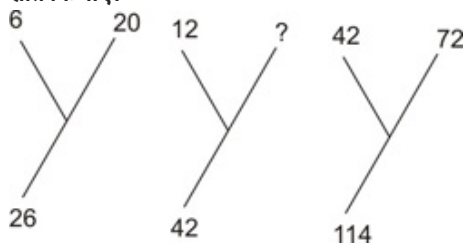
- Ans 1. 5 किमी.
 2. 8 किमी.
 3. 6 किमी.
 4. 7 किमी.

Q.2 निम्न प्रश्न में दिए गए विकल्पों में से प्रश्नवाचक चिन्ह के स्थान पर आने वाली संख्या ज्ञात किजीए।

16	25	40
10	15	20
?	400	900

- Ans 1. 144
 2. 169
 3. 196
 4. 225

Q.3 निम्न प्रश्न में दिए गए विकल्पों में से प्रश्नवाचक चिन्ह के स्थान पर आने वाली संख्या ज्ञात किजीए।



- Ans 1. 81

2. 144

3. 30

4. 28

Q.4 दो संख्याएं किसी तीसरी संख्या से क्रमशः 10% और 25% अधिक हैं। पहली संख्या दूसरी संख्या का कितने प्रतिशत है

Ans 1. 80%

2. 88%

3. 65%

4. 75%

Q.5 जिस प्रकार सुचालक का सम्बन्ध तांबा से है, उसी प्रकार कुचालक का सम्बन्ध किससे है ?

Ans 1. लकड़ी

2. एल्युमिनियम

3. लोहा

4. कोयला

Note: For this question, ambiguity is found in question/answer.
Candidate will get full marks for this question if any of these options are chosen - 1,4

Q.6 निम्नलिखित शब्दों को शब्दकोश के अनुसार व्यवस्थित किजिए। 1. Pestilential 2. Pesticide 3. Pestilence 4. Pestilent 5. Pestiferous

Ans 1. 1, 3, 2, 4, 5

2. 2, 4, 5, 3, 1

3. 2, 5, 4, 3, 1

4. 2, 5, 3, 4, 1

Q.7 नीचे दिए गए कथनों के अनुसार कौनसा निष्कर्ष तर्कसंगत निकाला जा सकता है।

कथन : सभी चाबी ताले है।

सभी ताले पेच है।

निष्कर्ष : I. सभी पेच चाबी है।

II. कुछ ताले चाबी है।

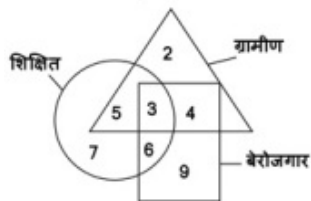
Ans 1. केवल निष्कर्ष II सही है

2. केवल निष्कर्ष I सही है

3. दोनों निष्कर्ष सही है

4. दोनों निष्कर्ष गलत है

Q.8 निम्नांकित आरेख में वृत्त शिक्षित का, त्रिभुज ग्रामीण का, आयत बेरोजगार का प्रतिनिधित्व करता है तो कितने ग्रामीण ऐसे हैं जो बेरोजगार तथा अशिक्षित हैं?



Ans 1. 9

2. 3

3. 4

4. 2

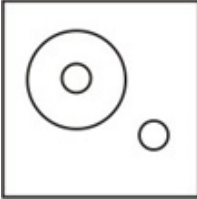
Q.9 निम्नलिखित में से कौनसी आकृति लड़कों, विद्यार्थियों और खिलाड़ियों के बीच संबंध को भली-भांति दर्शाती है?

Ans

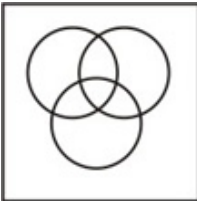
✗ 1.



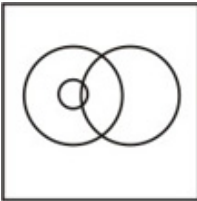
✗ 2.




✓ 3.



✗ 4.



Q.10 निम्न में से किस उत्तर आकृति द्वारा प्रश्न आकृति पूरी होगी?



Ans

✗ 1.



✗ 2.



✗ 3.



✓ 4.



Q.11 निम्न श्रृंखला में रिक्त स्थान () के स्थान पर क्या आएगा
_ abbaa _ c _ ad _ aae _

Ans

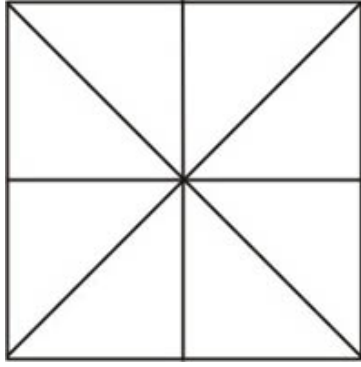
✓ 1. acade

✗ 2. babcc

✗ 3. bebde

✗ 4. acede

Q.12 नीचे दी गई आकृति में कितने त्रिभुज हैं?



- Ans
- 1. 12
 - 2. 10
 - 3. 8
 - 4. 16

Q.13 लड़को की एक पंक्ति में रवि बायीं ओर से 30वां तथा दायीं ओर से 12वां है उसी पंक्ति में प्रवीण दायीं ओर से 17वां है तो रवि और प्रवीण के बीच कितने लड़के हैं?

- Ans
- 1. 5
 - 2. 4
 - 3. 3
 - 4. 2

Q.14 श्रेणी 16, 36, 64, ? में लुप्त संख्या '?' क्या है ?

- Ans
- 1. 81
 - 2. 121
 - 3. 90
 - 4. 100

Q.15 A एक काम को 12 दिन में करता है। यदि A और B एक साथ उसी काम को 6 दिनों में कर सकते हैं, तो B अकेले उसी काम को कितने दिन में पूरा करेगा ?

- Ans
- 1. 15 दिन
 - 2. 12 दिन
 - 3. 17 दिन
 - 4. 11 दिन

Q.16 यदि "HONESTY" को "5132468" के रूप में लिखा जाए और "POVERTY" को "7192068" के रूप में जाएं तो "HORSE" को क्या लिखा जाएगा?

- Ans
- 1. 50124
 - 2. 52014
 - 3. 51024
 - 4. 51042

Q.17 किसी माह कि 5 तारीख को बुधवार है तो बताओ उसी माह की 28 तारीख को कौनसा वार होगा ?

- Ans
- 1. बुधवार
 - 2. शुक्रवार
 - 3. शनिवार

✗ 4. गुरुवार

Q.18 श्रेणी 7, 25, 61, 121, ? में लुप्त संख्या '?' क्या है ?

Ans ✗ 1. 210

✗ 2. 212

✗ 3. 209

✓ 4. 211

Q.19 X और Y की आयु का क्रमशः अनुपात 9:8 है। 5 वर्ष बाद उनकी आयु का अनुपात 10:9 होगा। उनकी आयु के बीच कितने वर्ष का अन्तर है ?


Ans ✗ 1. 4 वर्ष

✗ 2. 6 वर्ष

✗ 3. 7 वर्ष


✓ 4. 5 वर्ष

Q.20 दिए गए विकल्पों में से प्रश्न आकृति का जल प्रतिबिम्ब क्या होगा?




Ans


✗ 1.




✗ 2.



✗ 3.



✓ 4.



[Click Here : More PDF](#)

Q.21 दिए गए शब्द का का दर्पण प्रतिबिम्ब क्या होगा?

VERBAL

Ans

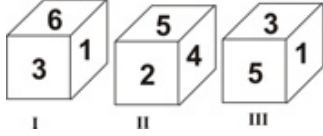
✗ 1. REVBAL

✓ 2. JABRJV

✗ 3. LRVERA

4. LABREV

Q.22 नीचे एक पासे के तीन प्रारूपों को दर्शाया गया है। इस पासे में अंक 3 के विपरीत फलक पर कौन-सा अंक होंगे?



- Ans
- 1. 1
 - 2. 2
 - 3. 4
 - 4. 5

Q.23 दिए गए विकल्पों में से निम्नलिखित अक्षर समूह का जल प्रतिबिम्ब कौनसा होगा ?

PQ8AF5BZ9

- Ans
- 1. b08v7f2Bz9
 - 2. PQ8AF2BZ0
 - 3. b08v7f2Bz0
 - 4. b08v7f2Bz0

Q.24 एक विक्रेता ने अपनी वस्तुओं का 3/4 हिस्सा 24% लाभ पर बेचा और शेष भाग लागत मूल्य पर बेच दिया। तदनुसार उसका कुल लाभ कितने प्रतिशत रहा

- Ans
- 1. 18
 - 2. 32
 - 3. 24
 - 4. 15

Q.25 नीचे दिए गए कथनों के अनुसार कौनसा निष्कर्ष तर्कसंगत निकाला जा सकता है।

कथन : सभी फावड़े औजार है।

कोई फावड़ा पात्र नहीं है।

निष्कर्ष : I. कम से कम कुछ फावड़े पात्र है।

II. कोई फावड़ा पात्र नहीं है।

- Ans
1. केवल निष्कर्ष I सत्य है
 2. दोनों निष्कर्ष सही है
 3. या तो निष्कर्ष I या निष्कर्ष II सत्य है
 4. दोनों निष्कर्ष गलत है

Note: For this question, discrepancy is found in question/answer. Full Marks is being awarded to all candidates.

Q.26 अमृता की ओर संकेत करते हुए राज कहता है कि उसकी माता मेरी सास की इकलौती पुत्री है, तो बताइये कि राज, अमृता से किस प्रकार सम्बन्धित है ?

- Ans
- 1. अंकल
 - 2. भाई
 - 3. पति
 - 4. पिता

Q.27 निम्न में से असंगत को चुनिए ?

- Ans
- 1. कान
 - 2. नाक
 - 3. आंख

✓ 4. प्रकोष्ठ

Q.28 निम्न में से किस उत्तर आकृति द्वारा प्रश्न आकृति पूरी होगी?



Ans

✗ 1.



✗ 2.



✓ 3.



✗ 4.



Q.29 जिस प्रकार वृत्त का सम्बन्ध चाप से है, उसी प्रकार वर्ग का सम्बन्ध किससे है ?

Ans

✓ 1. रेखा

✗ 2. त्रिभुज

✗ 3. आयत

✗ 4. गोला

Q.30 $\sqrt{3364} = ?$

Ans

✗ 1. 32

✗ 2. 62

✗ 3. 68

✓ 4. 58

Q.31 4 सेमी के एक ठोस घन से 1 सेमी के छोटे-छोटे घन प्राप्त करने के लिए इसे कुल कितने बार काटना होगा?

Ans

✗ 1. 3

✓ 2. 9

✗ 3. 2

✗ 4. 6

Q.32 अरूण द्वारा अंग्रेजी तथा गणित में प्राप्त किए गए कुल अंक 170 हैं। यदि इन दोनों विषयों में उसके प्राप्तांको का अन्तर 10 हो, तो इन विषयों में उसके प्राप्तांको का अनुपात है?

Ans

✓ 1. 9 : 8

✗ 2. 8 : 11

✗ 3. 7 : 8

✗ 4. 8 : 7

Q.33 दिए गए विकल्पों में से प्रश्न आकृति का दर्पण प्रतिबिम्ब क्या होगा?

89

B ////////////// A

Ans

✓ 1.

80

✗ 2.

86

✗ 3.

89

✗ 4.

80

Q.34 निम्नलिखित शब्दों को शब्दकोश के अनुसार व्यवस्थित कीजिए और उचित विकल्प को चुनिए

1. Ambitious 2. Ambiguous 3. Ambiguity 4. Animation 5. Animals

Ans

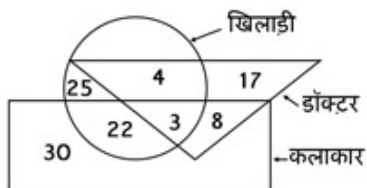
✗ 1. 3, 2, 4, 1, 5

✗ 2. 3, 2, 5, 4, 1

✗ 3. 3, 2, 4, 5, 1

✓ 4. 3, 2, 1, 5, 4

Q.35 दिए गए आरेख में आयत से कलाकारों को, वृत्त से खिलाड़ियों को और त्रिभुज से डॉक्टरों के वर्ग को निरूपित किया गया है। तो ऐसे कितने डॉक्टर हैं, जोकि खिलाड़ी और कलाकार दोनों हैं?



Ans

✓ 1. 3

✗ 2. 8

✗ 3. 7

✗ 4. 4

Q.36 6 : 45 बजे घड़ी की सूइयां आपस में कितने अंश का कोण बनाती हैं

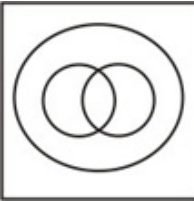
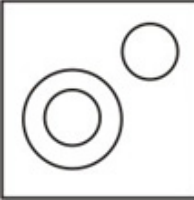


- Ans
- 1. 45°
 - 2. 90°
 - 3. $32\frac{1}{2}^\circ$
 - 4. $67\frac{1}{2}^\circ$

Q.37 यदि \div का अर्थ $+$ हो, $-$ का अर्थ \times हो, $+$ का अर्थ $-$ हो तथा \times का अर्थ \div हो, तो $14 - 4 \times 7 \div 12 + 8 = ?$

- Ans
- 1. 12
 - 2. 8
 - 3. 20
 - 4. 5

Q.38 दिए गए आरेखों में से कौन-सा आरेख निम्न तीनों के बीच सही संबंध दर्शाता है? भारत, पाकिस्तान, एशिया

Ans

- 1. 
- 2. 
- 3. 
- 4. 

Q.39 12 संख्याओं का औसत 15 है और पहली दो संख्याओं का औसत 14 है। शेष संख्याओं का औसत क्या है ?

- Ans
- 1. 15.2
 - 2. 14.2
 - 3. 14
 - 4. 15

Q.40 एक व्यक्ति अनुप्रवाह में 6 किमी./घंटा एवं ऊर्ध्वप्रवाह में 2 किमी./घंटा की चाल से तैरता है। शांत जल में उसकी चाल है

- Ans
- 1. 3 किमी./घंटा
 - 2. 4 किमी./घंटा
 - 3. 5 किमी./घंटा

✗ 4. 6 किमी./घंटा

Q.41 यदि किसी सांकेतिक भाषा में "CAT" को "DDY" लिखा जाता है, तो "BIG" को उसी भाषा में कैसे लिखा जाएगा?

- Ans
- ✗ 1. CJL
 - ✗ 2. CNL
 - ✓ 3. CLL
 - ✗ 4. CML

Q.42 निम्न में से असंगत को चुनिए ?

- Ans
- ✗ 1. झाड़व
 - ✓ 2. टहलना
 - ✗ 3. उड़ना
 - ✗ 4. घोड़े पर सवार होना

[Click Here : More PDF's](#)

Q.43 निम्न श्रृंखला में प्रश्नवाचक चिन्ह (?) के स्थान पर क्या आएगा
POQ, SRT, VUW, ?

- Ans
- ✓ 1. YXZ
 - ✗ 2. XYZ
 - ✗ 3. XZY
 - ✗ 4. YZX

Q.44 A से E तक विभिन्न मकान एक पंक्ति में बने हैं। A, B के दाईं ओर है और E, C के बाईं ओर तथा A के दाईं ओर है। साथ ही B, D के दाईं ओर है, तब बिल्कुल बीच में कौन-सा मकान है?

- Ans
- ✗ 1. E
 - ✓ 2. A
 - ✗ 3. B
 - ✗ 4. D

Q.45 P, Q के 40 मी. दक्षिण-पश्चिम में है। R, Q के 40 मी. दक्षिण-पूर्व में है। तब R, P के सापेक्ष किस दिशा में है

- Ans
- ✗ 1. दक्षिण
 - ✗ 2. उत्तर
 - ✓ 3. पूर्व
 - ✗ 4. पश्चिम

Section : सामान्य ज्ञान सामान्य विज्ञान और सामयिकी

Q.1 किस सूफी संत ने कहा था, 'हनोज दिल्ली दूर अस्त' (अभी दिल्ली दूर है) ?

- Ans
- ✓ 1. शेख निजामुद्दीन औलिया
 - ✗ 2. शेख नासिरुद्दीन
 - ✗ 3. सलीम चिश्ती
 - ✗ 4. शेख फरीद

Q.2 विधान सभा में धन-विधेयक किसकी पूर्व अनुमति पर पेश होता है ?

- Ans
- ✗ 1. प्रधानमंत्री

- 2. राज्यपाल
- 3. मुख्यमंत्री
- 4. राष्ट्रपति

Q.3 पेनीसिलिन (Penicillin) की खोज किसने की थी ?

- Ans
- 1. राबर्ट कोच
 - 2. बैक्समान
 - 3. एलबर्ट सेबीन
 - 4. अलेक्जान्डर

Q.4 किस ग्रह के कोई उपग्रह नहीं है ?

- Ans
- 1. पृथ्वी
 - 2. बुध
 - 3. शुक्र
 - 4. बृहस्पति

Note: For this question, ambiguity is found in question/answer.
Candidate will get full marks for this question if any of these options are chosen - 2,3

Q.5 भारत में सीमेन्ट उत्पादन में अग्रणी राज्य है ?

- Ans
- 1. राजस्थान
 - 2. मध्य प्रदेश
 - 3. आन्ध्र प्रदेश
 - 4. तमिलनाडू

Q.6 विधान परिषद् के सदस्य कितने वर्षों के लिए निर्वाचित होते हैं ?

- Ans
- 1. 3 वर्ष
 - 2. 4 वर्ष
 - 3. 6 वर्ष
 - 4. 5 वर्ष

Q.7 सिन्धु नदी का उद्गम स्थल है ?

- Ans
- 1. रोहतांग दर्रा
 - 2. शेषनाग झील
 - 3. मानसरोवर झील
 - 4. मप्सातुंग हिमानी

Q.8 सुन्दरवन है ?

- Ans
- 1. गंगा - ब्रह्मपुत्र डेल्टा में
 - 2. दक्कन के पठार में
 - 3. महानदी डेल्टा में
 - 4. गोदावरी डेल्टा में

Q.9 किसने कहा था 'तुम मुझे खून दो, मैं तुम्हें आजादी दूंगा' ?

- Ans
- 1. भगतसिंह
 - 2. अरविन्द घोष

3. सुभाष चन्द्र बोस

4. चन्द्रशेखर आजाद

Q.10 विधानमण्डल का प्रमुख कर्तव्य क्या है ?

Ans 1. न्यायिक मामलों को कार्यान्वित करना

2. कानूनों को कार्यान्वित करना

3. नियमों (कानूनों) को अधिनियमित करना

4. केन्द्रीय प्रशासन

Q.11 संयुक्त राष्ट्र सुरक्षा परिषद के अस्थायी सदस्यों की कार्य अवधि कितनी होती है ?

Ans 1. 2 वर्ष

2. 6 माह

3. 3 वर्ष

4. 1 वर्ष

Q.12 किस देश ने 2017 का फुटबाल फेडरेशन कप जीता ?

Ans 1. ब्राज़ील

2. जर्मनी

3. इटली

4. फ्रांस

Q.13 हाल ही में किन दो देशों के बीच संयुक्त सैन्य अभ्यास 'ईगल सैल्यूट 2017' का आयोजन हुआ ?

Ans 1. मिस्त्र और अमेरिका

2. मिस्त्र और बहरीन

3. अमेरिका और इटली

4. अमेरिका और कुवैत

Q.14 निम्न में से कौन सबसे बड़ा कोशिकांग है ?

Ans 1. प्लास्टिड

2. माइटोकॉन्ड्रिया

3. गोल्जीकाय

4. गुणसूत्र

Q.15 कनिष्क की राजधानी थी ?

Ans 1. बनारस

2. पुरुषपुर

3. इलाहबाद

4. सारनाथ

Q.16 कान्हा टाइगर रिजर्व किस राज्य में स्थित है ?

Ans 1. पश्चिम बंगाल

2. उत्तराखंड

3. उत्तर प्रदेश

4. मध्य प्रदेश

Q.17 वायुयानों के टायरों में भरने में निम्न गैस का प्रयोग किया जाता है ?

- Ans 1. हीलियम
 2. नीऑन
 3. नाइट्रोजन
 4. हाइड्रोजन

Q.18 विश्व का सबसे बड़ा, लिखित एवं सर्वाधिक व्यापक संविधान किस देश का है ?

- Ans 1. कनाडा
 2. दक्षिण अफ्रीका
 3. भारत
 4. ब्रिटेन

Q.19 भारत के राष्ट्रीय सुरक्षा सलाहकार कौन है ?

- Ans 1. जमशंकर प्रसाद
 2. मुकुल रोहतगी
 3. रंजीत कुमार
 4. अजीत कुमार दोभाल

Q.20 दूध में प्रभावी रूप से उपस्थित कार्बोहाइड्रेट किस प्रकार का होता है ?

- Ans 1. लैक्टोज
 2. माल्टोज
 3. सुक्रोज
 4. ग्लूकोज

Q.21 दुग्ध उत्पादन के क्षेत्र में श्वेत क्रान्ति लाने का श्रेय किसको जाता है ?

- Ans 1. डॉ. वर्गीय कुरियन
 2. डॉ. पंजाब सिंह
 3. डॉ. एम. एस. स्वीनाथन
 4. डॉ. अमृता पटेल

Q.22 सूर्य की तीव्र किरणों द्वारा झूलसने से वायुमण्डल की कौन-सी गैस हमारी रक्षा करती है ?

- Ans 1. नाइट्रोजन
 2. ऑर्गन
 3. ऑक्सीजन
 4. ओजोन

Q.23 ग्रामीण क्षेत्र में डिजिटलीकरण की पहुंच मजबूत करने के लिए किस बैंक ने 'भेरा आई' मोबाइल एप लांच किया ?

- Ans 1. एसबीआई
 2. विजया बैंक
 3. देना बैंक
 4. आईसीआईसीआई

Q.24 आउटपुट क्या है ?

- Ans 1. वह जो प्रोसेसर को यूजर से मिले
 2. वह जो प्रोसेसर यूजर को दे
 3. वह जो यूजर प्रोसेसर को दे
 4. वह जो प्रोसेसर यूजर से ले

Q.25 गोवा, दमन और दीव का उपनिवेशीकरण मूलतः किया गया था ?

- Ans 1. पुर्तगालियों द्वारा
 2. अंग्रेजों द्वारा
 3. डचों द्वारा
 4. फ्रांसीसियों द्वारा

Section : राजस्थान इतिहास संस्कृति कला और भूगोल

Q.1 जाम्भा (फलीदी - जोधपुर) किस सम्प्रदाय से संबंधित स्थान है ?

- Ans 1. गौड़ीय सम्प्रदाय
 2. जसनाथी सम्प्रदाय
 3. वल्लभ सम्प्रदाय
 4. विश्णोई सम्प्रदाय

Q.2 राजस्थान का वह कौनसा संत है जिसने फतेहपुर सीकरी में अकबर से भेंट की थी ?

- Ans 1. मीराबाई
 2. जसनाथ
 3. रामचरण
 4. दादूदयाल

Q.3 राज्य स्तरीय पशु मेलों की राजस्थान में कितनी संख्या है ?

- Ans 1. 14
 2. 12
 3. 10
 4. 8

Q.4 मथानिया सौर ऊर्जा परियोजना किस जिले में स्थित है ?

- Ans 1. जोधपुर
 2. नागौर
 3. बीकानेर
 4. जैसलमेर

Q.5 हिन्दुस्तान जिंक लिमिटेड का प्रधान कार्यालय कहां है ?

- Ans 1. विशाखापट्टनम
 2. उदयपुर
 3. रायपुर
 4. जयपुर

Q.6 जिला आयोजना समितियों का गठन किसकी अध्यक्षता में किया गया है ?

- Ans 1. मुख्य कार्यकारी अधिकारी जिला परिषद

- 2. जिला कलक्टर
- 3. जिला प्रमुख
- 4. परियोजना निदेशक, डी आर डी ओ

Q.7 महाराणा जगमल सिंह द्वारा बाँसवाड़ा राज्य की कब स्थापना की गई ?

- Ans 1. 1518 ई.
- 2. 1535 ई.
 - 3. 1544 ई.
 - 4. 1532 ई.

Q.8 कपड़े पर चित्र बनाकर लोक देवता की जीवन - चरित्र प्रस्तुत किया जाता है यह कला कौनसी है ?

- Ans 1. ख्याल
- 2. फड़
 - 3. स्वांग
 - 4. रम्मत

Q.9 जिस राज्य के साथ राजस्थान की सबसे छोटी अन्तरराज्यीय सीमा है, वह है ?

- Ans 1. गुजरात
- 2. मध्य प्रदेश
 - 3. हरियाण
 - 4. पंजाब

Q.10 क्षेत्रफल की दृष्टि से राजस्थान का सबसे छोटा संभाग कौनसा है ?

- Ans 1. अजमेर
- 2. चित्तौड़गढ़
 - 3. भरतपुर
 - 4. उदयपुर

Q.11 कर्नल जेम्स टॉड ने निम्नलिखित में से किस युद्ध को 'मेवाड़ का मेराथन' कहकर पुकारा है ?

- Ans 1. दिवेर का युद्ध
- 2. सारंगपुर का युद्ध
 - 3. खानवा का युद्ध
 - 4. हल्दीघाटी का युद्ध

Q.12 राजस्थान की प्रथम महिला राज्यपाल कौन थी ?

- Ans 1. श्रीमती गायत्री देवी
- 2. श्रीमती सुमित्रा सिंह
 - 3. श्रीमती प्रतिभा पाटिल
 - 4. श्रीमती गिरिजा व्यास

Q.13 मलीर प्रिंट का संबंध है ?

- Ans 1. उदयपुर से
- 2. बाडमेर से

3. सांगानेर से

4. बूंदी से

Q.14 राजस्थान की कुबड़पट्टी कहाँ है ?

Ans 1. बांसवाड़ा - डूंगरपुर

2. कोटा - बून्दी

3. भरतपुर - अलवर

4. नागौर - अजमेर

Q.15 पीथमपुरी झील राजस्थान के किस जिले में स्थित है ?

Ans 1. सीकर

2. भीलवाड़ा

3. जालौर

4. चित्तौड़गढ़

Q.16 अधिकांश सांस्कृतिक गतिविधियाँ जयपुर में सम्पन्न होती हैं ?

Ans 1. नाहरगढ़ किले में

2. सेन्ट्रल पार्क में

3. सिटी पेलिस में

4. जवाहर कला केन्द्र में

Q.17 राजस्थान राज्य की सर्वोच्च न्यायिक संस्था कौनसी है ?

Ans 1. सर्वोच्च न्यायालय

2. राज्यपाल

3. उच्च न्यायालय

4. राजस्व मण्डल

Q.18 कोटा की साक्षरता दर कितनी है ?

Ans 1. 81%

2. 68%

3. 77%

4. 85%

Q.19 भेड़ बकरी व ऊँटों का पालन-पोषण तथा व्यवसाय करने वाली एक जाति विशेष है ?

Ans 1. रैडौ

2. रैंकणौ

3. रैहळ

4. रैबारी

Q.20 मुख्यमंत्री राजश्री योजना के अंतर्गत बालिका जन्म पर कितनी राशि दी जाने का प्रावधान है ?

Ans 1. 4000

2. 3500

3. 2500

4. 3000

Q.21 बीसलपुर परियोजना का संबंध किस नदी से है ?

- Ans
- 1. चम्बल
 - 2. जाखम
 - 3. व्यास
 - 4. बनास

Q.22 रामदेवरा का प्राचीन नाम क्या था ?

- Ans
- 1. मरूभाषा
 - 2. अल्पस
 - 3. रूणेचा
 - 4. सल्यपुर

Q.23 3 मई 2016 को मुख्यमंत्री वसुंधरा राजे ने प्रदेश का तीसरा रोप वे का शुभारम्भ कहाँ किया ?

- Ans
- 1. जालौर
 - 2. जयपुर
 - 3. पुष्कर
 - 4. उदयपुर

Q.24 राज्य में सॉफ्टवेयर - टेक्नोलोजी पार्क कहाँ स्थापित होगा ?

- Ans
- 1. श्रीगंगानगर
 - 2. निर्यात - प्रोत्साहन औद्योगिक पार्क, जयपुर में
 - 3. जोधपुर में
 - 4. कोटा में

Q.25 गालियाकोट में किस सम्प्रदाय का उर्स आयोजित होता है ?

- Ans
- 1. सूहारवादी सम्प्रदाय
 - 2. दाउदी बोहरा सम्प्रदाय
 - 3. नक्सलवादी सम्प्रदाय
 - 4. चिश्ती सम्प्रदाय

Q.26 दूध बावड़ी स्थित है ?

- Ans
- 1. आमेर, जयपुर
 - 2. सिरोही
 - 3. बूंदी
 - 4. झालावाड़

Q.27 सीकर किस संभाग के अन्तर्गत आता है ?

- Ans
- 1. जयपुर
 - 2. अजमेर
 - 3. बीकानेर
 - 4. कोटा

Q.28 राजस्थान का वह लोक - देवता, जिसने महमूद गजनवी से युद्ध किया ?

- Ans
- 1. पाबूजी

- 2. संत पीपाजी
- 3. गोगाजी
- 4. जसनाथ जी

Q.29 आंजणी किसे कहते हैं ?

- Ans
- 1. पशुओं के शरीर पर दागा जाने वाला चिन्ह
 - 2. एक राजस्थानी लोकगीत
 - 3. आंख की पलकों पर होने वाली फुंसी
 - 4. कोठी की मोखी ढक्कन

Q.30 राजस्थान में तीर्थयात्रा पर जाते समय पूजा की जाती है ?

- Ans
- 1. दुर्गा माता की
 - 2. देवरा की
 - 3. पथवारी देवी की
 - 4. सांझी की

राजस्थान GK 2025

हस्तलिखित नोट्स (कलासंस्कृति)

**REET : जेल प्रहरी : चतुर्थ श्रेणी
कर्मचारी : पशुधन सहायक 2025**

Get PDF : Click Here